

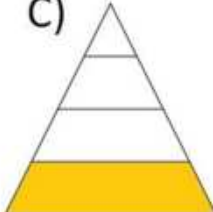
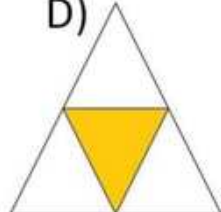






CÓDIGO	MAT2078
TÍTULO	La cuarta parte de la superficie
DOMINIO	Números
CONTENIDO	Conjuntos numéricos
SUB-CONTENIDO	Números Racionales/Diferentes Representaciones
COMPETENCIA	Aplicar Conceptos
OBJETIVO	Reconocer en representación gráfica la parte correspondiente a una fracción dada de la unidad.
PERFIL DE EGRESO	Interpretar, registrar y comunicar una cantidad mayor o menor que la unidad en representaciones: gráfica, decimal, fraccionaria.

¿En cuál de estas superficies se pintó de amarillo la cuarta parte?

A)  B)  C)  D) 

Código	Texto	Justificación	%
A		Selecciona un sector menor que la mitad de la unidad.	10
B		Considera las partes (4) que están sombreadas sin tener en cuenta el total de partes iguales en que está dividida la figura (9).	41
C		Considera que una de las cuatro partes está sombreada pero no tiene en cuenta la desigualdad de las cuatro partes	31
D		CLAVE Identifica la igualdad de las partes en que fue dividida la unidad y que solo se sombreó una parte de las cuatro.	19