






CÓDIGO	CIE1503
TÍTULO	La sombra del árbol
MACROCONCEPTO	Sistemas de la Tierra y el Espacio
HABILIDAD COGNITIVA	Interpretación y aplicación de conceptos
OBJETIVO	Interpretar las imágenes aplicando conocimientos sobre movimiento aparente del Sol.
PERFIL DE EGRESO	Relacionar la ocurrencia del día y la noche con el movimiento de rotación de la Tierra y la interacción con la luz solar a través del uso de representaciones y modelos.

¿Qué imagen representa correctamente la sombra del árbol al mediodía?



Código	Texto	Justificación	%
A		Observa la sombra del tronco y ve que es la única que se representó como una recta horizontal. No tiene en cuenta la posición del Sol al mediodía.	26
B		Sabe de sus observaciones cotidianas que el Sol aparece por el oriente y que la sombra irá acortándose a lo largo de la mañana.	12
C		CLAVE Interpreta correctamente la imagen asociándola con sus conocimientos acerca del movimiento aparente del Sol y la formación de sombras.	47
D		Cree que en esta imagen está representada la sombra del mediodía porque es la única que la muestra del otro lado.	15